



CUESTIONARIO DE RESPUESTAS ALTERNATIVAS (OFIMÁTICA)

CUERPO: AUXILIAR

SISTEMA: ACCESO LIBRE

**RESOLUCIÓN DE CONVOCATORIA: 30 de abril de 2007
(D.O.C.M. nº 97, de 10 de mayo)**

Toledo a 10 de febrero de 2008.

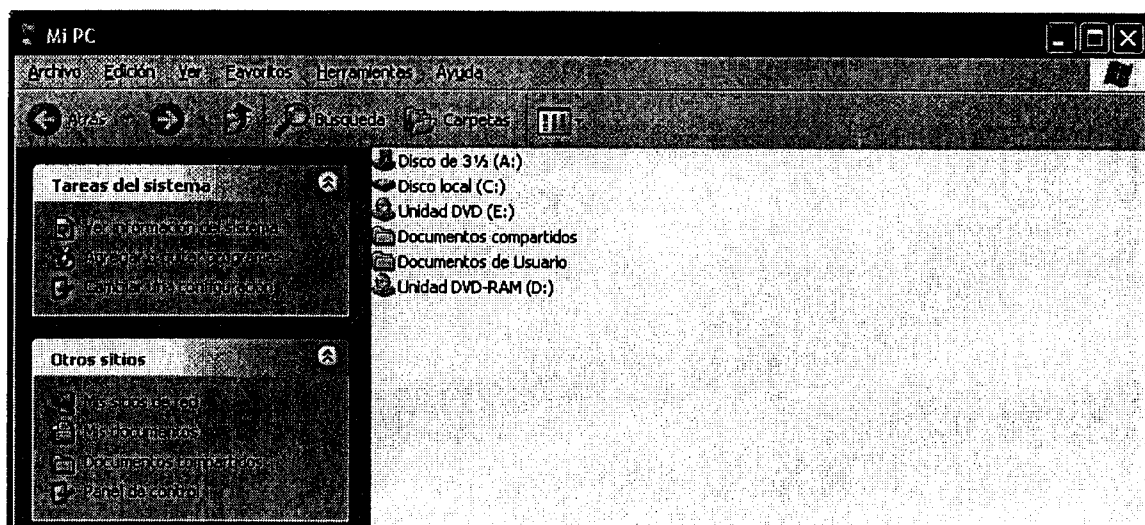
NOTAS PARA LAS PREGUNTAS DEL CUESTIONARIO:

- En todas las preguntas de informática y sus respuestas, salvo que se indique expresamente lo contrario, se entenderá que se conserva la instalación estándar de los programas y/o sistemas operativos (es decir, no se han personalizado barras de herramientas, combinaciones de teclas, etc.)
 - Las versiones de los programas y sistemas operativos a que se refieren las preguntas son las indicadas en el programa de las pruebas selectivas.
 - Un signo + entre nombres de teclas indica que se pulsa la segunda (o la tercera) sin soltar la primera (o primeras). Un símbolo → entre nombres de comandos, opciones, menús, etc., indica que se elige uno a continuación de otro.
 - Cuando se haga referencia a "clic" del ratón se entenderá que se hace con el botón principal del mismo, salvo que expresamente se indique que se hace con el secundario.
-

1.- Señale cuál de los siguientes nombres de archivo contiene un carácter permitido en Windows:

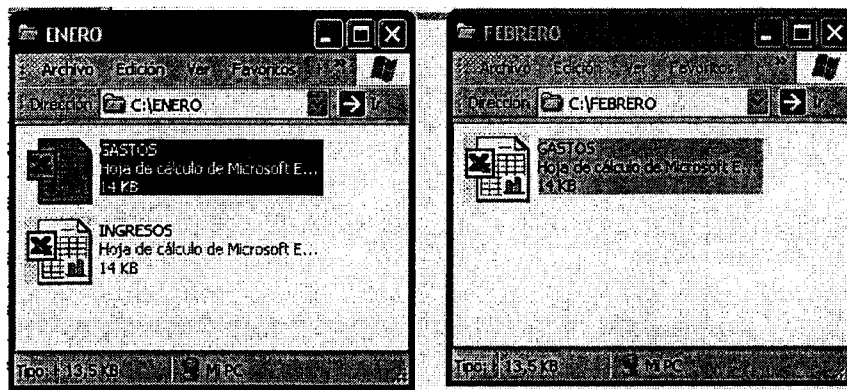
- A) Casa_2000.txt
- B) Casa\2000.txt
- C) Casa:2000.txt
- D) Casa*2000.txt

2.- En la siguiente imagen donde se muestra parcialmente la ventana "Mi PC" de Windows, ¿qué opción dejará realizar el menú contextual resultante de hacer "clic" con el botón secundario del ratón en la barra de título de dicha ventana?




- A) Copiar
- B) Tamaño
- C) Pegar
- D) Restaurar

- 3.- Observe la siguiente imagen. ¿Qué ocurrirá si arrastramos con el botón principal del ratón el archivo seleccionado en la carpeta ENERO hasta la carpeta FEBRERO?

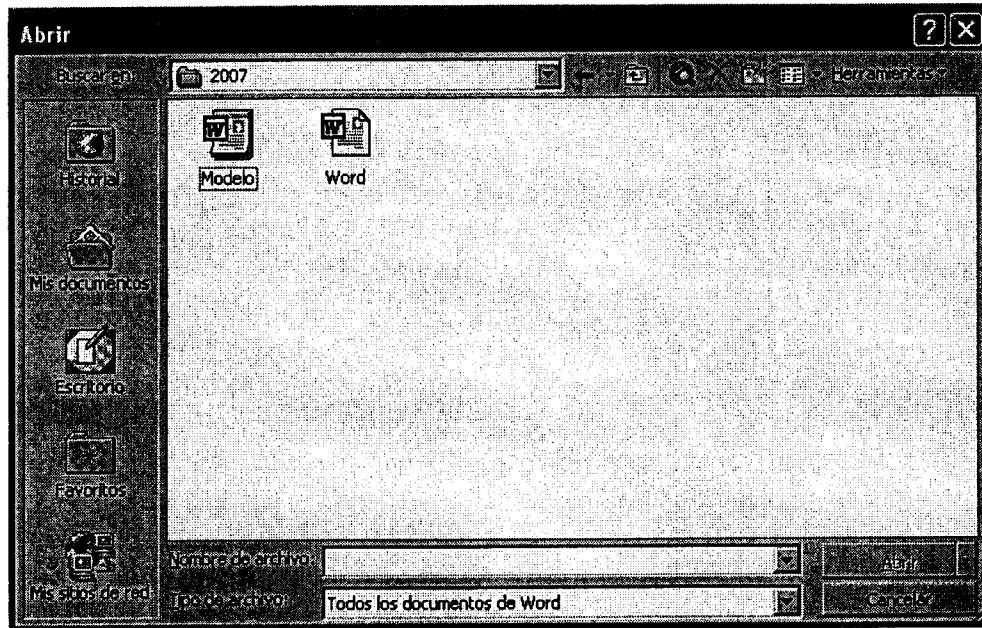


- A) El archivo seleccionado se copiará a la carpeta FEBRERO, pero con el nombre "Copia de GASTOS"
 - B) El archivo se moverá a la carpeta FEBRERO, pero aparecerá con el nombre "GASTOS 2"
 - C) Al soltar el botón principal del ratón, Windows nos advertirá de que ya existe un archivo con ese nombre y nos preguntará si queremos reemplazarlo. Si contestamos "Sí", el archivo se moverá a la carpeta FEBRERO
 - D) Al soltar el botón principal del ratón, Windows nos advertirá de que ya existe un archivo con ese nombre y nos preguntará si queremos reemplazarlo. Si contestamos "Sí", el archivo se copiará a la carpeta FEBRERO
- 4.- En un documento de Word se ha insertado una tabla que ocupa tres de las diez páginas de las que se compone el documento. Para que las dos primeras filas de la tabla aparezcan de forma automática en las páginas ocupadas por la misma:
- A) Se activará en el menú "Tabla" la opción "Dividir tabla"
 - B) Se utilizará la opción "Repetición de filas de títulos" del menú "Tabla"
 - C) A través del menú "Tabla", se creará una "Tabla de contenido", con las dos filas a repetir
 - D) No es posible que se repita de forma automática dos filas, sino solo la primera fila de la tabla
- 5.- A la vista de la siguiente imagen de un documento de Word, ¿qué ocurrirá al pulsar la barra espaciadora dos veces?



- A) Se insertarán dos espacios en blanco a la derecha del punto en el que se encuentra el cursor, desplazando los caracteres existentes
- B) Se seleccionarán los dos caracteres a la derecha del cursor
- C) Se insertarán dos espacios en blanco a la derecha del cursor, borrando los caracteres existentes en esa posición
- D) Se seleccionará toda la línea en la que se encuentra el cursor

6.- Observe la siguiente imagen, del cuadro de diálogo “Abrir” en Word.



En base a ella, se puede afirmar que:

- A) La carpeta “2007” solo contiene documentos de Word, pero no de Excel o Access
- B) Según las opciones del cuadro de diálogo, no se muestran las plantillas de documento que están guardadas en la carpeta 2007
- C) La imagen muestra el contenido íntegro de la carpeta “2007”
- D) Según las opciones del cuadro de diálogo se mostrarán tanto documentos de Word, como plantillas de documentos y archivos con formato RTF

7.- En una barra de herramientas integrada de Word, se han realizado cambios, agregando y quitando botones. ¿Cómo se podrá conseguir que la barra de herramientas vuelva a su configuración predeterminada?

- A) Con la función “Restablecer”, desde el menú “Herramientas”→ “Personalizar”
- B) Activando nuevamente la barra de herramientas desde el menú “Ver”→ “Barras de Herramientas”
- C) Con la función “Predeterminar”, desde el menú “Ver”→ “Barras de herramientas”→ “Personalizar”
- D) Eliminando la barra de herramientas y creándola de nuevo con los botones originales

8.- ¿Con que función de Word identifica el siguiente puntero del ratón?



- A) Hacer clic y escribir
- B) Ajuste de texto
- C) Sobrescribir
- D) Alineación de texto

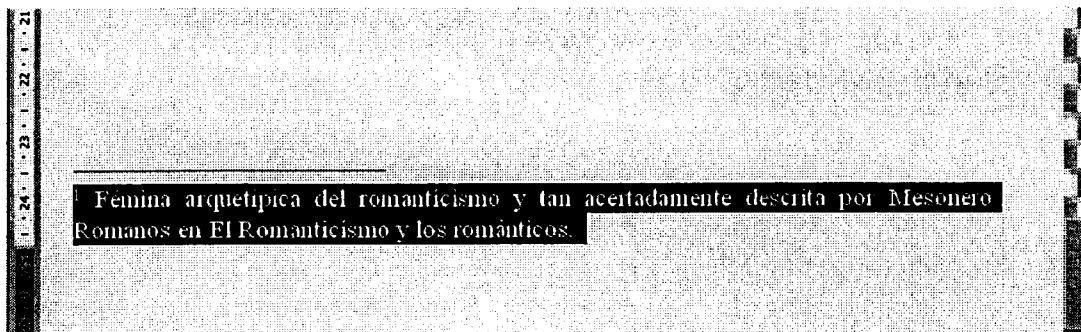
9.- En Word se está trabajando con un documento que está dividido en tres secciones que constan de dos páginas cada una de ellas. Si en la primera sección se establece un encabezado de página con el texto “Castilla-La Mancha” ¿cómo aparecerá el encabezado de las otras dos secciones?

- A) En la sección 2 y 3 aparecerá, por defecto, como encabezado el texto “Castilla-La Mancha”
- B) En la sección 2 aparecerá, por defecto, como encabezado el texto “Castilla-La Mancha”, pero en la sección 3 el encabezado aparecerá en blanco
- C) Tanto el encabezado de la sección 2 como el de la 3 aparecerán en blanco
- D) En un documento dividido en secciones no es posible establecer encabezados

10.-En Word, ¿cómo se puede evitar que la última línea de un párrafo se imprima sola en la parte superior de la página siguiente a la que se encuentra el párrafo?

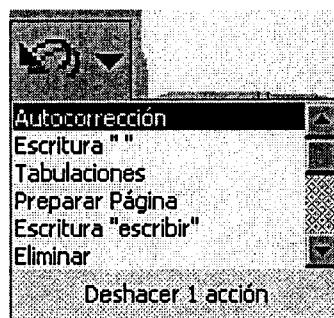
- A) Con el control de líneas viudas y huérfanas, a través del cuadro de diálogo "Párrafo..." del menú "Formato"
- B) A través del control de paginación, que se establece en el cuadro de diálogo "Configurar página..." del menú "Archivo"
- C) Mediante la opción "Conservar líneas juntas" que se establece en el cuadro de diálogo "Configurar página..." del menú "Archivo"
- D) A través de la opción "Saltar líneas viudas" desde del cuadro de diálogo "Párrafo..." del menú "Formato"

11.-Observe la siguiente imagen de un documento de Word, e indique qué ocurrirá si a continuación se pulsa la tecla "Supr":



- A) Se eliminará el texto seleccionado de la nota al pie, pero no la marca de referencia
- B) Se eliminará tanto el texto seleccionado de la nota al pie como la marca de referencia
- C) Se eliminarán el texto seleccionado de la nota al pie y todas las notas al pie que existan en el documento
- D) No ocurrirá nada, pues es necesario borrar antes la marca de referencia

12.-Observe la siguiente imagen que muestra el botón "Deshacer" de Word.




¿Es posible deshacer las acciones "Tabulaciones" y "Eliminar", de una sola vez, sin deshacer el resto de las que aparecen en la lista?

- A) Sí, si se selecciona con la tecla "Control" las acciones que se quieren deshacer
- B) Sí, pero para ello hay que seleccionar con la tecla "Mayús" las acciones que se quiere deshacer
- C) No, pues al deshacer una acción, también se deshacen todas las acciones que la preceden en la lista
- D) No, pues el botón "Deshacer", cada vez que se despliega, sólo permite elegir una única acción

13.-En relación con las tablas en un documento de Word, indique la respuesta correcta:


- A) Al insertar la tabla en el documento, por defecto, ésta aparece sin bordes
- B) Dentro de las celdas de la tabla no se pueden establecer tabulaciones
- C) En las celdas de una tabla es posible establecer sangrías
- D) No es posible combinar verticalmente las celdas de una tabla

14.-La siguiente imagen muestra un documento de Word, en el que se ha insertado una Autoforma. ¿Es posible incluir un texto en la misma?




- A) Sí, a través de la opción "Agregar texto", del menú contextual de la autoforma
- B) Sí, mediante el menú "Insertar" → "Texto en objeto"
- C) Sí, a través del cuadro de diálogo "Formato de autoforma"
- D) No, en las autoformas no se puede incluir texto

15.-Observe detenidamente la imagen que se muestra a continuación de un documento de Word. Si se hace "triple clic", ¿Qué ocurrirá?



- A) Sólo se seleccionará el párrafo completo donde está situado el puntero del ratón
- B) Sólo se seleccionará la primera línea del párrafo donde está situado el puntero del ratón
- C) Se seleccionará todo el documento
- D) Sólo se seleccionará la primera oración del párrafo donde está situado el puntero del ratón

16.-Observe la siguiente imagen de un documento de Word.




Fecha de entrada	Fecha de Salida	Calificación
10-10-2007	21-11-2007	Apto
22-05-2007	30-06-2007	Apto
30-09-2007	15-10-2007	No apto

¿Cuál de los procedimientos descritos a continuación, permite la selección que se muestra en la imagen?

- A) Pulsar la tecla "Mayús" y arrastrar simultáneamente con el ratón sobre la columna a seleccionar, desde su primer carácter
- B) Pulsar la tecla "Alt" y simultáneamente arrastrar con el ratón sobre la columna a seleccionar, desde su primer carácter
- C) Mantener pulsada la tecla "Mayús" y a la vez desplazarse de izquierda a derecha sobre la columna, con las teclas de dirección del cursor
- D) Arrastrar con el ratón sobre la columna a seleccionar a la vez que se tiene pulsada la tecla "Control"

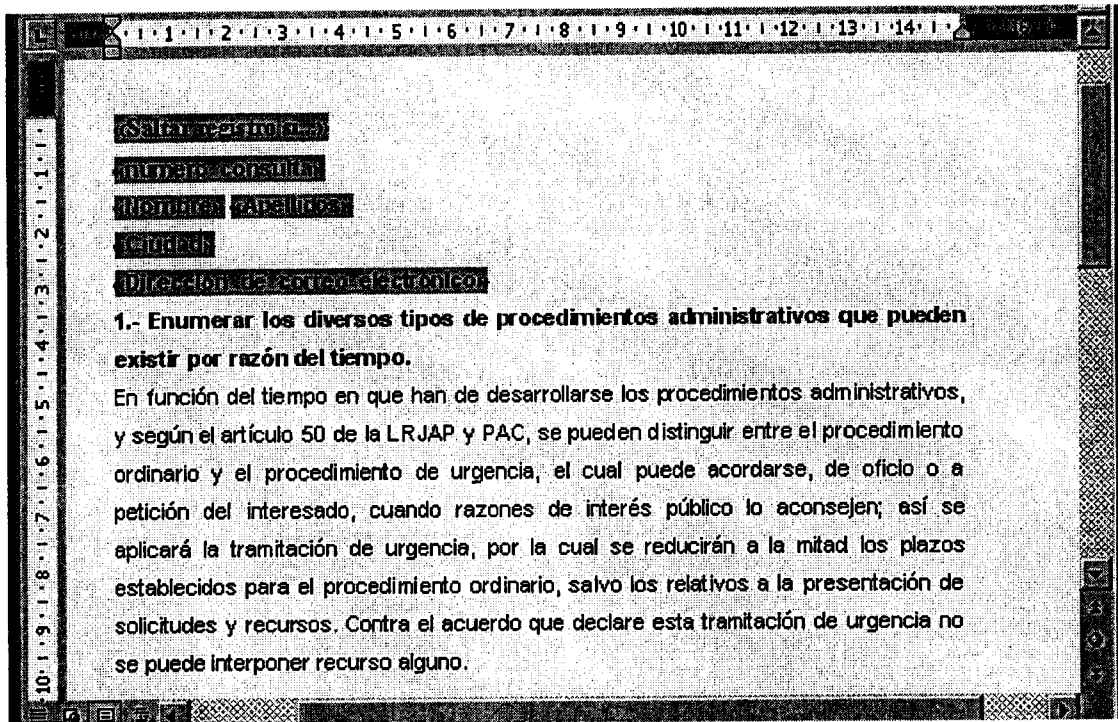
17.-En relación con la siguiente imagen de un documento de Word en el que se han establecido diversas tabulaciones en el texto seleccionado, se puede afirmar que:



ALBACETE	HELLÍN42.821,35 €
CIUDAD REAL	ALMAGRO514.124,30 €
CUENCA	TARANCÓN33.020,23 €
GUADALAJARA	TORIJA28.254,47 €
TOLEDO	ILLESCAS252.147,35 €

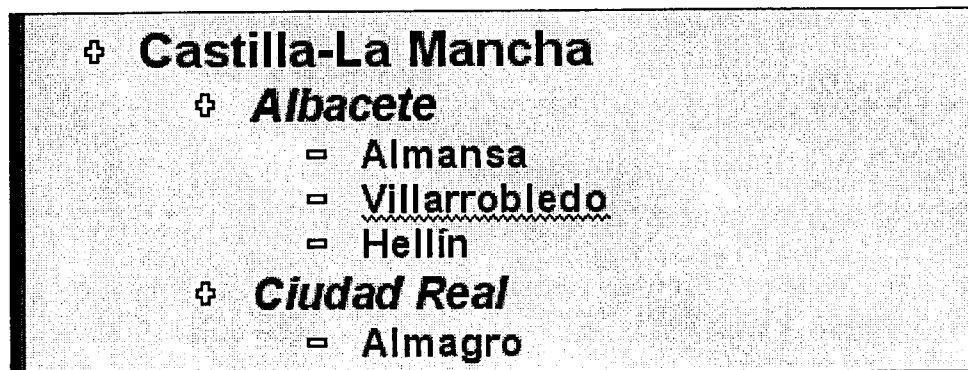
- A) Se ha establecido sangría en la primera línea
- B) Se ha establecido relleno en la tabulación izquierda
- C) Se ha establecido relleno en la tabulación centrada
- D) Se ha establecido relleno en la tabulación decimal

18.-Observe la siguiente imagen de Word, que muestra el documento principal de una combinación de correspondencia. Señale la respuesta correcta respecto a los campos de combinación que se muestran en la imagen:



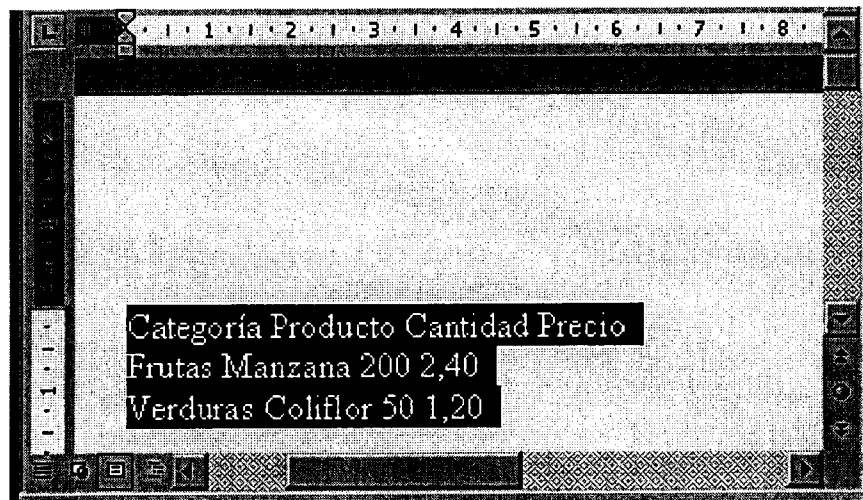
- A) Todos los campos pertenecen al origen de datos
- B) El campo "Dirección_de_correo_electrónico" es un campo de Word
- C) El campo " Nombre_Apellidos" pertenece al origen de datos
- D) El campo "Saltar registro si..." es un campo de Word

19.-En relación con la siguiente imagen parcial de un documento de Word, se puede afirmar que:



- A) El documento se muestra en Vista Normal
- B) El documento se muestra en Vista Esquema
- C) El documento se muestra en Vista Diseño de impresión
- D) El documento se muestra en Vista Diseño Web

20.-En el documento de Word, que muestra la siguiente imagen, se necesita convertir el texto seleccionado en una tabla. ¿A través de qué menú se realizaría dicha acción?



- A) Menú "Tabla" → "Convertir"
- B) Menú "Herramientas" → "Convertir"
- C) Menú "Tabla" → "Autoajustar"
- D) Menú "Edición" → "Autoajustar"

21.-Trabajando en una hoja de Excel, se quiere introducir en una celda un texto demasiado largo, por lo que es necesario forzar una nueva línea de texto en dicha celda. ¿Qué combinación de teclas habrá que usar para realizar esa acción?

- A) "Control"+"Mayús"
- B) "Control"+"Intro"
- C) "Alt"+"Mayús"
- D) "Alt"+"Intro"

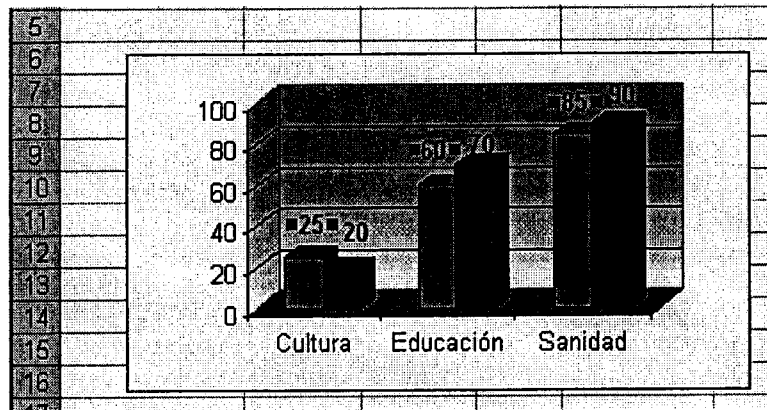
22.-Si en una hoja de Excel se combinan varias celdas, ¿cuál será la referencia de la celda combinada resultante?

- A) La celda superior izquierda del rango original seleccionado
- B) La celda inferior derecha del rango original seleccionado
- C) La celda superior derecha del rango original seleccionado
- D) No se puede precisar, pues dependerá del número de celdas que incluya el rango seleccionado para combinar

23.-En relación con los gráficos de Excel, indique la respuesta correcta:

- A) Es posible modificar el tamaño del área de trazado, sin que se modifique el tamaño del área del gráfico
- B) Al modificar el formato del eje de valores, automáticamente también se modifica el formato del eje de categorías
- C) En un gráfico de columnas 3D no se pueden establecer líneas de división principales ni secundarias
- D) El orden en el que aparecen las series en un gráfico, viene dado por la hoja de cálculo, sin que se pueda modificar, en ningún caso, ese orden en el gráfico

24.-¿Cómo se denominan los elementos que aparecen seleccionados en el gráfico de Excel que muestra la siguiente imagen?



- A) Rótulos de datos
- B) Punto de datos
- C) Serie de datos
- D) Títulos de valores

25.-Observe la siguiente imagen de un libro de Excel.

	A	B	C	D	E
	IdProd	NombreProducto	IdProveedor	IdCategoría	CantidadPorUnidad
19	19	Pastas de té de chocolate	8	4	10 cajas x 12 piezas
20	20	Mermelada de Sir Rodney's	8	3	30 cajas regalo
21	21	Bollos de Sir Rodney's	8	4	24 paq. x 4 piezas
68	68	Barros de pan de Escocia	8	3	10 cajas x 8 porc.

Si a continuación se despliega la flecha del campo "IdCategoría", y se selecciona el valor 3 ¿qué efectos producirá?

- A) Se dejará sin efecto el filtro por el campo "IdProveedor", que se visualiza en la imagen, y se filtrará la lista, sólo por el campo "IdCategoría"
- B) Sobre los registros que se muestran en la imagen, se aplicará el filtro por el campo "IdCategoría"
- C) No se puede desplegar la flecha del campo "IdCategoría", en tanto no se anule el filtro que hay por el campo "IdProveedor"
- D) Se ordenará la lista que se ve en la imagen en orden ascendente, pues al seleccionar el valor 3 en el campo "IdCategoría", se está eligiendo el valor más pequeño

26.-En una celda de una hoja de cálculo de Excel, se ha establecido validación de datos. ¿Es posible copiar esa configuración de validación de datos en otra celda de la misma hoja?

- A) Sí, copiando la celda que tiene la validación y después pegando en la otra celda, a través del menú "Edición" → "Pegado especial..."
- B) Sí, a través del cuadro de diálogo "Validación de datos"
- C) Sí, seleccionando la celda que tiene la validación y después copiando el formato en la otra celda
- D) No, esta configuración no se puede copiar en otras celdas

27.-Si con los datos que se muestran en la siguiente imagen de Excel, se quiere crear una lista personalizada, habrá de hacerse:

	A	B	C	D
1	ALBACETE			
2	BARCELONA			
3	CACERES			
4	CIUDAD REAL			
5	CUENCA			
6	GUADALAJARA			
7	MADRID			
8	SEVILLA			
9	TOLEDO			
10	VALENCIA			

- A) Desde el cuadro de diálogo "Opciones" del menú "Herramientas"
- B) A través del cuadro de diálogo "Serie", al que se accede desde el menú "Edición" → "Rellenar"
- C) Desde el cuadro de diálogo "Listas personalizadas" del menú "Datos"
- D) En Excel no es posible crear listas personalizadas

28.-A la vista de la siguiente imagen de Excel, se puede afirmar que:

	C	D	E	F	G
1					
2					
3		75			
4					
5					
6					
7					
8					

- A) Antes de ejecutar el comando "Pegar", se ha utilizado el comando "Copiar"
- B) Para pegar estos datos, previamente se ha ejecutado el comando "Cortar"
- C) Estos datos se han insertado arrastrando el "controlador de relleno"
- D) Para poder pegar estos datos, previamente se ha utilizado el botón "Copiar formato"

29.-A la vista de la siguiente imagen, ¿qué tipo de referencia utiliza la fórmula que se visualiza en la barra de fórmulas?

	A	B	C	D	E
1					
2	Resumen:	25			
3					
4					

- A) Absoluta
- B) Externa
- C) 3D
- D) Circular

30.-Observe la siguiente imagen de un libro de Excel. Si a continuación se copia la celda activa y se pega en la celda B7, a través del botón "Pegar vínculos" del cuadro de diálogo "Pegado Especial...", ¿cuál será el contenido de la celda B7?

	A	B	C	D	E
1					
2	Cantidad	Precio	Total		
3	4	10	40		
4	2	50	100		
5	1	15	15		
6					
7	TOTALES				

- A) =A3*B3
- B) =\$C\$3
- C) =\$A3*\$B3
- D) 40

31.-En la siguiente imagen de una hoja de Excel, ¿qué valor mostrará la celda E5 si se copia la fórmula de la celda E3 en la celda E5?

	A	B	C	D	E
1	Nombre de producto	Categoría	Precio por unidad	Unidades en existencia	
2	Licor	Bebidas	2,00 €	10	20,00 €
3	Cerveza	Bebidas	1,00 €	10	30,00 €
4	Empanada de carne	Carnes	3,00 €	10	
5	Empanada de cerdo	Carnes	4,00 €	10	

- A) 40,00 €
- B) 100,00 €
- C) 60,00 €
- D) 70,00 €

32.-Respecto del formato de las celdas que se observan en la siguiente imagen de un libro de Excel, señale la respuesta correcta:

Ventas de Helados									
AÑOS	MESES	Cantidad en miles de euros							
2006	Enero	12							
	Febrero	14							
	Marzo	25							
	Abril	27							
	Mayo	40							
	Junio	60							
	Julio	80							
	Agosto	100							
	Septiembre	70							
	Octubre	40							
	Noviembre	20							
	Diciembre	5							

- A) La celda A1 está ajustada al texto, pero no está combinada
- B) La celda C2 está centrada, pero no está ajustada al texto
- C) La celda A3 está combinada y centrada
- D) La celda A3 tiene orientación de 180° en el texto

33.-A la vista de la siguiente imagen de una hoja de Excel ¿qué opción del menú "Datos" se ha elegido para realizar la introducción de datos en la misma?

nombre	apellidos	dirección	telefono
carmen	chaves lopez	aragon, 215	915245545
jose	lopez dominguez	castellana, 24	913732541

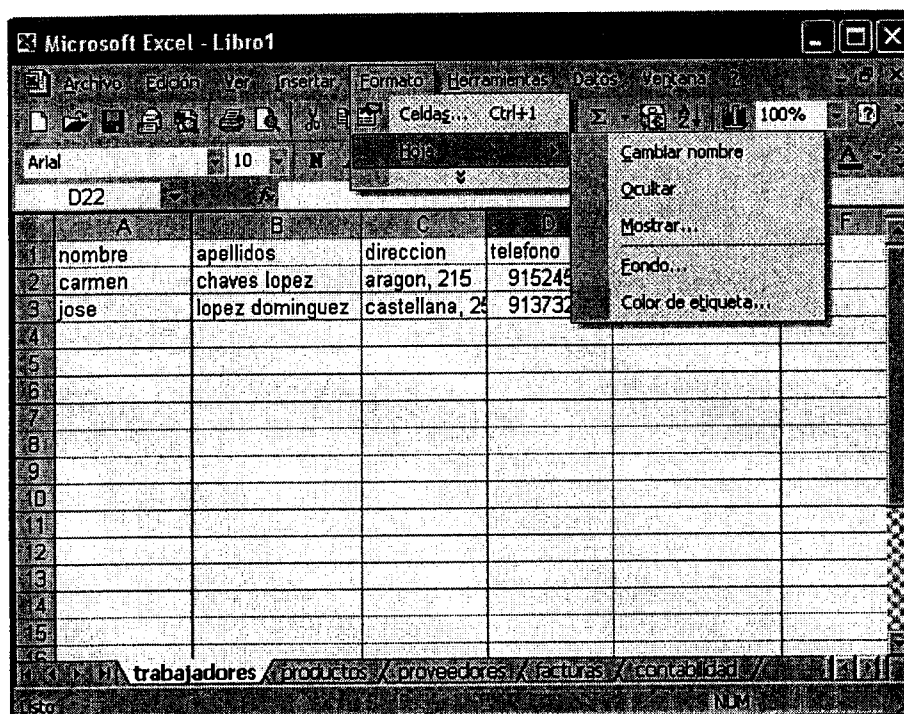
Hoja1

nombre: carmen
 apellidos: chaves lopez
 direccion: aragon, 215
 telefono: 915245545

id: 2
 Nuevo
 Eliminar
 Borrar
 Buscar anterior
 Buscar siguiente
 Criterios
 Cerrar

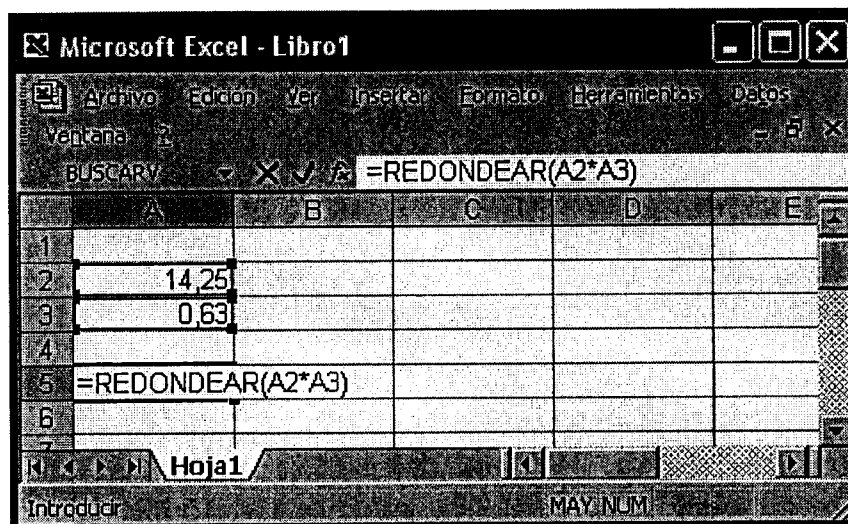
- A) Informe
- B) Tabla
- C) Formulario
- D) Escenarios

34.-En relación con la siguiente imagen de un libro de Excel, señale la afirmación correcta:



- A) El libro tiene cinco hojas
- B) En el libro existen una o varias hojas ocultas
- C) Con los datos que muestra la imagen, no se puede aseverar si existen o no hojas ocultas
- D) Si se elige la opción "Mostrar...", se podrán mostrar de una sola vez todas las hojas que pudieran estar ocultas en el libro

35.-A la vista de la siguiente imagen de Excel ¿A cuantos decimales aparecerá redondeada la cantidad resultante de la fórmula, cuándo ésta se valide?



- A) A dos, pues las cifras con las que opera tienen dos decimales
- B) A cero decimales, pues no se ha especificado número concreto de decimales al que redondear
- C) Al número de decimales que tenga establecido el formato de la celda
- D) Al validar la fórmula, no se obtendrá un resultado, pues no se han indicado los argumentos necesarios para que sea correcta

36.-Señale la respuesta correcta en relación con la siguiente imagen de una hoja de Excel:

	A	B	C	D	E
1	Nombre de producto	Unidad	Unidad	Unidad	Unidad
25	Chocolate Schoggi	5.268,00 €	2.195,00 €	1.756,00 €	
26	Col fermentada Rössle	3.310,56 €	1.881,00 €	4.651,20 €	
27	Cordero Alice Springs	4.013,10 €	4.836,00 €	6.087,90 €	
28	Crema de almejas estilo Nueva	1.325,03 €	1.582,60 €	1.664,62 €	
29	Crema de chocolate y nueces	865,20 €		693,00 €	
30	Crema de queso Fløtemys	174,15 €	2.541,29 €	2.816,50 €	
31	Cuajada de judías	2.734,20 €	1.318,27 €	749,81 €	
32	Empanada de carne	2.099,20 €	1.500,60 €	4.029,48 €	
33	Empanada de verduras	100,21 €	890,52 €	879,10 €	

- A) En la hoja se ha aplicado inmovilización de paneles estando seleccionada la celda A1
- B) En la hoja se ha aplicado inmovilización de paneles con el indicador de celda en la A2
- C) En la hoja se ha aplicado inmovilización de paneles desde la celda B1
- D) En la hoja se ha aplicado inmovilización de paneles estando seleccionada la celda B2

37.-En relación con la configuración de página de una hoja de Excel, señale la respuesta correcta respecto de la personalización del encabezado de la misma:

- A) Se puede insertar la ruta, pero no el nombre de archivo del libro activo
- B) Se puede insertar el nombre de archivo del libro activo, pero no el nombre de la hoja activa
- C) Permite elegir una imagen para insertarla en la hoja de cálculo activa, y darle formato a la misma
- D) Permite insertar los números de página al imprimir una hoja de cálculo, no permitiendo dar formato de fuente a los mismos

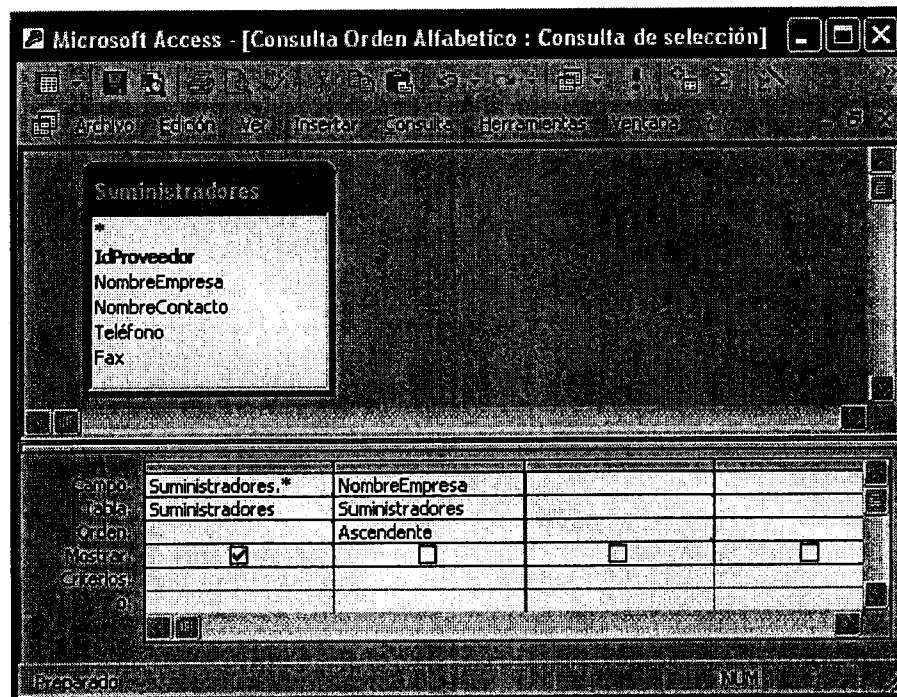
38.-En Access, ¿es posible definir una regla de validación en una tabla que ya contiene datos?

- A) No, sólo se puede definir al crear la tabla
- B) Sí, pero los datos que incumplan la regla de validación definida, serán eliminados
- C) No, pues las reglas de validación sólo se aplican en formularios, pero no en tablas.
- D) Sí, pero al guardar la tabla, Access preguntará si se quiere comprobar los datos existentes con la nueva regla de validación

39.-En relación con la vinculación de datos en Access, señale la respuesta correcta:

- A) La vinculación supone la copia de la tabla original en nuestra base de datos
- B) Si se elimina el icono perteneciente a una tabla vinculada, se elimina también la tabla original
- C) La vinculación supone la posibilidad de ver y modificar los datos tanto en la aplicación original como en un archivo de Access
- D) Access utiliza los mismos iconos para representar tablas vinculadas y tablas almacenadas en la base de datos actual


40.-La siguiente imagen de Access muestra el diseño de una consulta que ha sido guardada en la base de datos.



Si posteriormente se modifica el diseño de la tabla "Suministradores", eliminando el campo "NombreContacto", y creando uno nuevo llamado "Provincia" ¿qué campos mostrará la hoja de datos al ejecutar nuevamente la consulta que muestra la imagen?


- A) "IdProveedor", "NombreEmpresa", "NombreContacto", "Teléfono" y "Fax"
- B) "IdProveedor", "NombreEmpresa", "Teléfono" y "Fax"
- C) "IdProveedor", "NombreEmpresa", "Teléfono", "Fax" y "Provincia"
- D) No se mostrará ningún campo, pues al ejecutar la consulta Access advertirá de que no encuentra en la tabla el campo "NombreContacto"

41.-Observe la siguiente imagen del diseño de una tabla de Access, e indique que ocurrirá al quitar el símbolo de clave principal al campo "IdCliente", que se visualiza en ella:



- A) Se eliminará el campo donde estaba establecida la clave principal
- B) Acto seguido se eliminarán de forma automática todas las relaciones establecidas por ese campo
- C) Si la tabla "Clientes de España" es la tabla principal en una relación, deberá eliminarse la relación previamente, para poder quitar el símbolo de la clave principal
- D) Si el campo tiene almacenados datos, no se podrá quitar el símbolo de la clave principal, hasta que se eliminen los registros

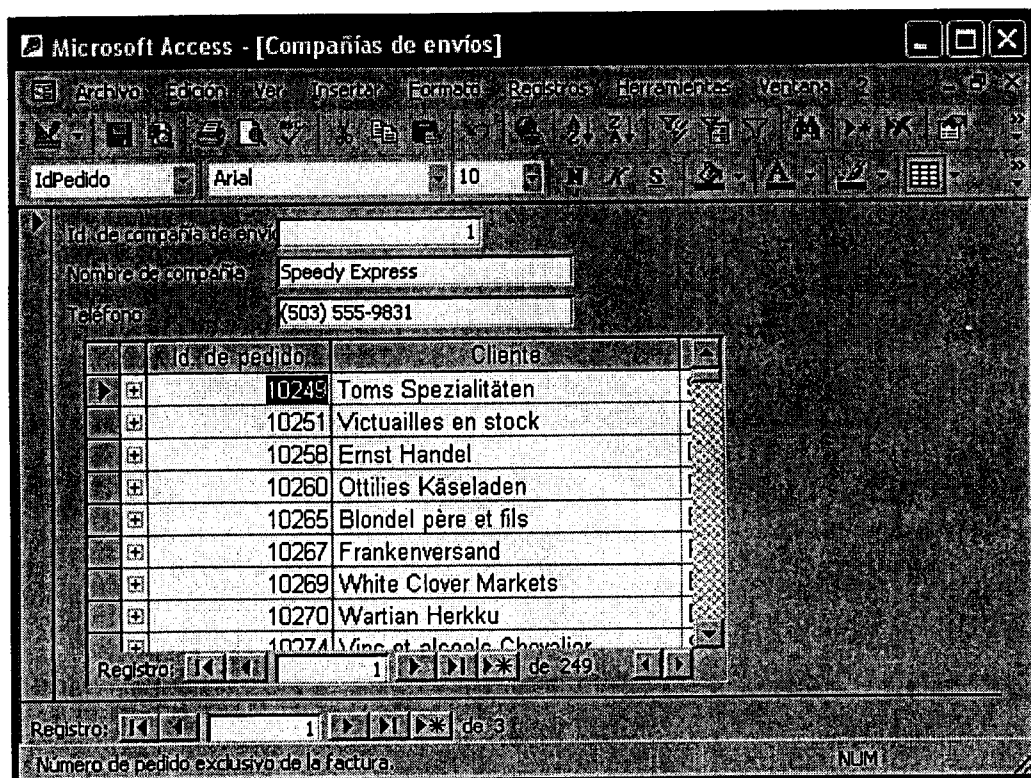
42.-Observe la siguiente imagen que muestra parcialmente la vista "Diseño" de un informe de Access.



A la vista de la misma se puede afirmar que:

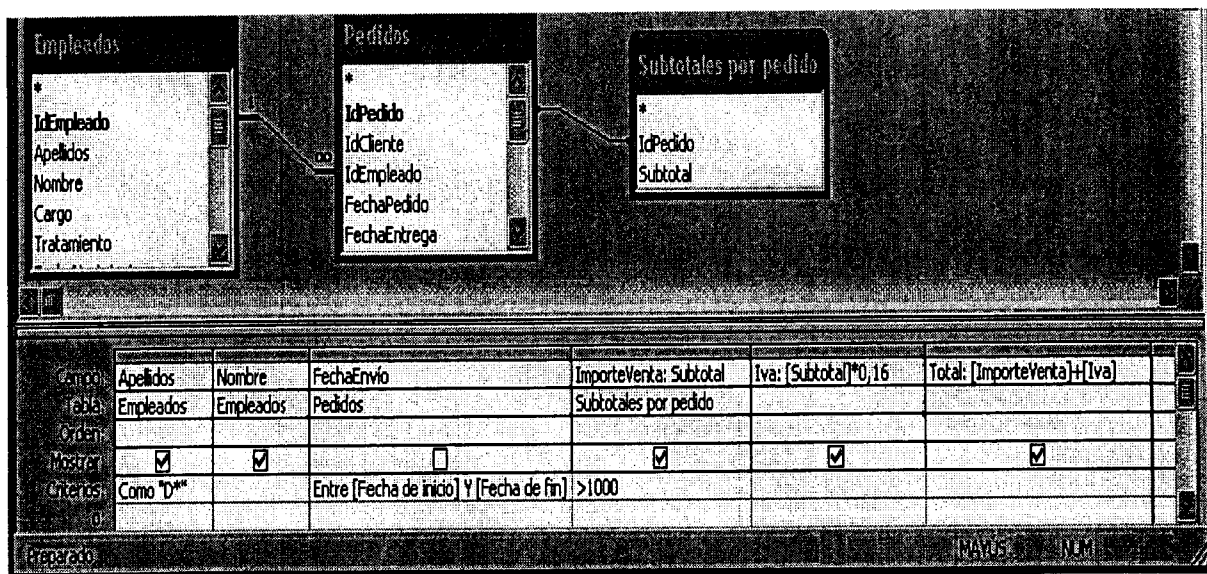
- A) Es un informe para crear etiquetas
- B) En el diseño de este informe se ha establecido algún nivel de agrupamiento
- C) El informe sólo consta de tres secciones
- D) En el informe está seleccionada la sección de "Pie de página"

43.-La siguiente imagen es el resultado de la creación de un Autoformulario de la tabla "Compañías de envíos", de una base de datos de Access. A la vista de la misma, se puede afirmar que:



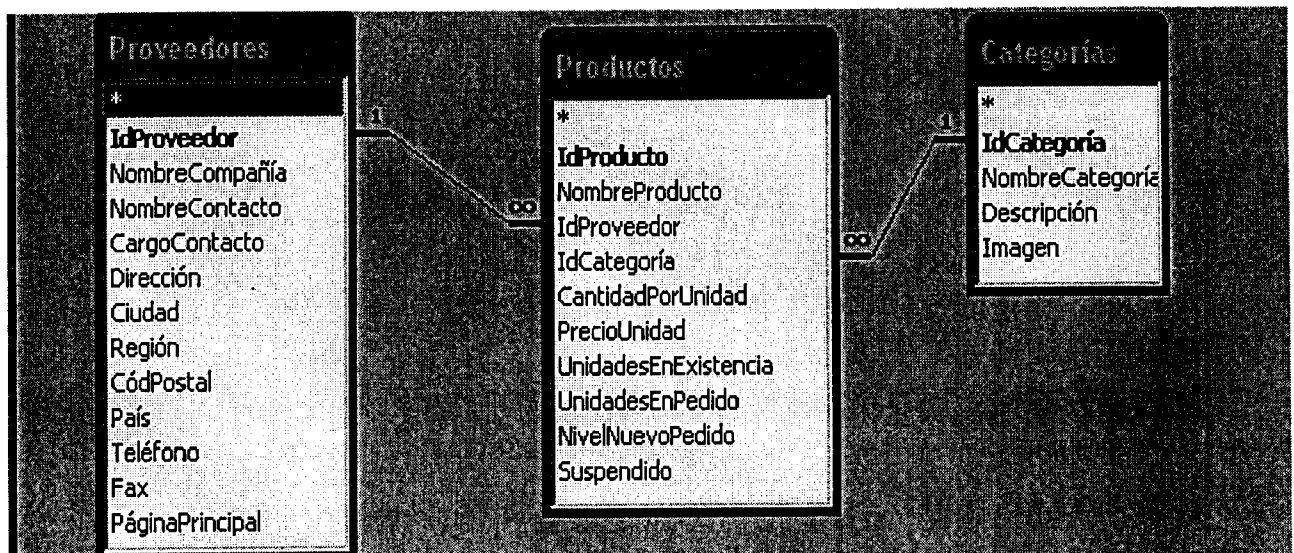
- A) La tabla "Compañías de envíos" consta de 4 campos
- B) La tabla "Compañías de envíos" tiene 249 registros
- C) La compañía cuyo nombre es "Speedy Express" tiene 249 registros relacionados
- D) La compañía cuyo nombre es "Speedy Express" tiene 3 registros relacionados

44.-En relación con la siguiente imagen que muestra la vista diseño de una consulta de Access, señale la respuesta correcta:



- A) Existen tres campos calculados
- B) Todos los campos de la vista diseño serán mostrados en la vista hoja de datos
- C) Es una consulta paramétrica
- D) El campo "Total" no se mostrará, ya que Access no permite crear un campo calculado como resultado de otros campos calculados

45.-Observe la siguiente imagen, donde se muestran las relaciones existentes entre las tres tablas que componen una base de datos de Access y señale la respuesta correcta:



- A) En la tabla "Productos" existe una clave principal y en el resto de tablas existe una clave externa en cada una de ellas
- B) En la tabla "Productos" existen dos claves externas y una clave principal
- C) En la tabla "Categorías" existe una clave principal y una clave externa
- D) En la tabla "Productos" existe sólo una clave externa y en el resto de tablas existe una clave principal en cada una de ellas

- 46.-Observe la siguiente imagen, en la que se muestra el diseño de una consulta de Access. Teniendo en cuenta que las cuatro alternativas de respuesta que se dan a continuación se encuentran en los registros de la tabla "Clientes", dentro del campo "Ciudad", ¿cuál de ellas responde al criterio establecido para el citado campo?


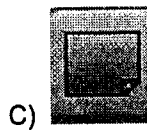


Campo:	NombreContacto	Ciudad	
Tabla:	Clientes	Clientes	
Orden:			
Mostrar:	<input checked="" type="checkbox"/>	<input checked="" type="checkbox"/>	
Criterios:		Como "L???"	

- A) Lyon
- B) Londres
- C) Luxemburgo
- D) Lisboa

- 47.-La siguiente imagen muestra la vista diseño de una tabla de Access. En relación con las propiedades del campo "IdCliente", señale la respuesta correcta:

- A) El contenido del campo "IdCliente" se muestra en la Vista Hoja de datos en letras mayúsculas
- B) El encabezado de columna que se muestra en la Vista Hoja de datos es "IdCliente"
- C) En el campo se deben introducir 5 caracteres, admitiendo tanto letras como dígitos
- D) Este campo no puede ser clave principal, ya que el tipo de datos es "Texto"

48.-Trabajando en Internet Explorer, se está intentando conectar con un servidor y tarda demasiado, ¿cuál de los siguientes botones elegiría para detener la conexión?



49.-En relación con el Historial en Internet, señale la respuesta correcta:

- A) No se puede cambiar el número de días que las páginas se guardan en la lista Historial
- B) Sólo contiene vínculos a los sitios y páginas Web que ha visitado en la semana anterior
- C) Se puede visualizar la lista Historial por el criterio "el menos visitado"
- D) Se puede vaciar la carpeta Historial

50.-En Outlook Express ¿Qué indica el siguiente icono junto a un mensaje de correo electrónico?



- A) El mensaje está firmado digitalmente y se ha abierto
- B) El mensaje está cifrado y se ha leído
- C) El mensaje está cifrado y firmado digitalmente y se ha abierto
- D) El mensaje está en curso en la carpeta Borrador

PREGUNTAS DE RESERVA:

51.-¿Cuál de los siguientes pares de formato de fuente aplicables en un documento de Word, resultan incompatibles, de modo que **NO** pueden ser utilizados simultáneamente sobre el mismo texto?

- A) Negrita y subrayado de solo palabras
- B) Versales y mayúsculas
- C) Contorno y sombra
- D) Tachado y oculto

52.-En relación con la siguiente imagen de un Libro de Excel, ¿cuál será la forma más rápida para introducir la frase "DEPARTAMENTO DE VENTAS" como encabezado de página en todas sus hojas?

	A	B	C	D	E
1	Nº FACTURA	FECHA FACTURA	Nº PEDIDO	CODIGO CLIENTE	BASE IMPON
2	1	28-feb-99	5	B-01	2.164.864,32
3	2	31-mar-99	6	B-02	1.731.891,46
4	3	30-jun-99	1	A-01	3.247.296,48
5	4	30-ago-99	2	A-02	4.329.728,64
6	5	30-nov-99	3	A-03	5.412.160,80
7	6	30-jun-99	4	A-04	5.953.376,88
8	7	30-jun-99	7	B-03	3.788.512,56
9	8	30-jun-99	8	B-04	5.628.647,23
10	9	30-jun-99	9	A-01	2.489.593,97
11	10	31-jul-99	10	A-02	2.814.323,62
12	11	31-ago-99	11	A-03	2.922.566,83
13	12	30-sep-99	12	A-04	3.030.010,85

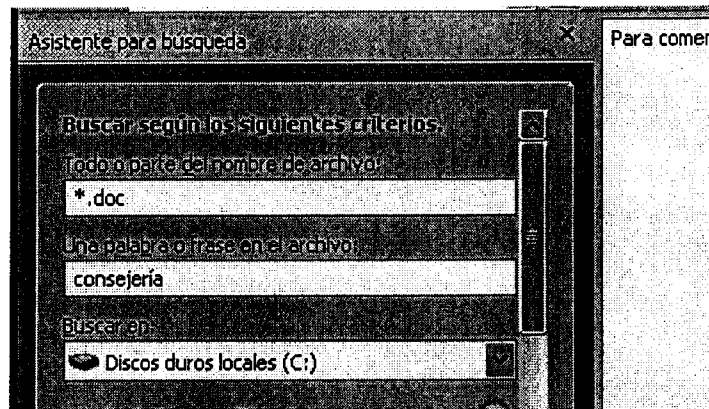
facturas pedidos clientes

- A) A través del menú "Archivo" → "Configurar página", previamente seleccionadas todas las hojas del libro
- B) A través del menú "Archivo" → "Configurar página", no siendo necesario seleccionar previamente todas las hojas del libro
- C) A través del botón "Vista Preliminar" de la barra de herramientas Estándar, previamente seleccionadas todas las hojas del libro
- D) A través del botón "Vista Preliminar", se introducirá el mismo encabezado una hoja detrás de otra, no siendo posible hacerlo en todas las hojas a la vez

53.-En relación con las distintas opciones que permite establecer el cuadro de diálogo "Inicio" de Access, indique la respuesta correcta:

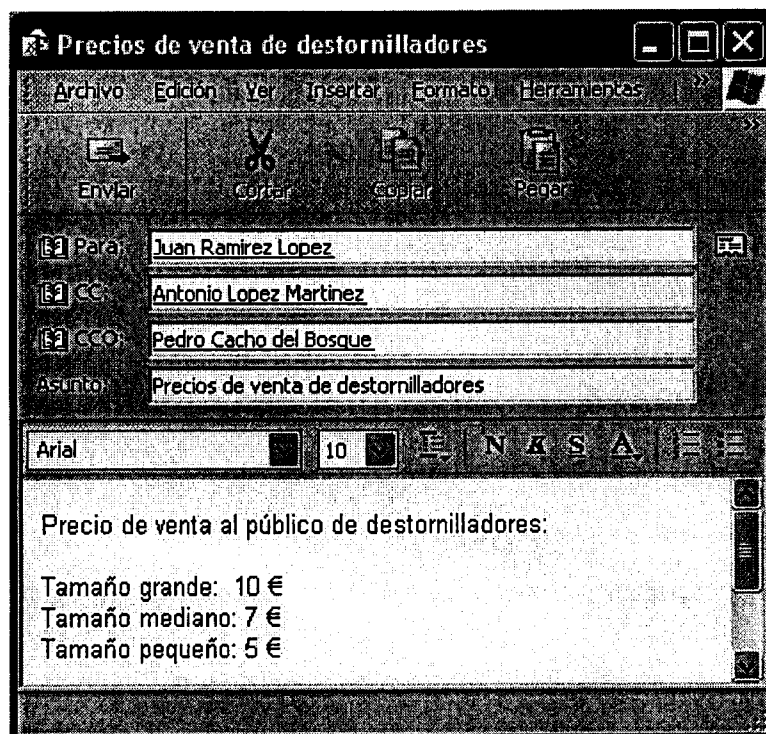
- A) Permite cambiar el título de la aplicación, pero no el icono de la misma
- B) Permite cambiar el icono de la aplicación, pero el título de ésta deberá coincidir con el nombre del archivo de Access
- C) Permite cambiar tanto el título de la aplicación como el icono de la misma
- D) No permite cambiar el título de la aplicación ni el icono de la misma

54.-Observe la siguiente imagen, que muestra parcialmente la ventana de búsqueda en Windows e indique qué archivos mostrará el resultado de la búsqueda definida:



- A) Todos los archivos del disco duro local cuyo nombre contenga la palabra consejería y la extensión sea doc.
- B) Los archivos con cualquier nombre y extensión doc, que contengan la palabra consejería y se encuentren en el disco duro local.
- C) Sólo los archivos del disco duro local cuyo nombre comience por la palabra consejería y tengan extensión doc.
- D) Los archivos que se encuentren en el disco duro local cuyo nombre sea asterisco (*) y su extensión doc, o en el nombre aparezca la palabra consejería.

55.-En relación con la siguiente imagen que muestra un nuevo mensaje en Outlook Express con varios destinatarios, señale la respuesta correcta:



- A) Sólo el remitente conoce la identidad de todos los destinatarios
- B) "Antonio Lopez Martinez" no sabe que "Juan Ramirez Lopez" también es destinatario del mensaje
- C) "Juan Ramirez Lopez" sabe que "Pedro Cacho del Bosque" es destinatario del mensaje
- D) "Pedro Cacho del Bosque" conoce que "Antonio Lopez Martinez" y "Juan Ramirez Lopez" son destinatarios del mensaje

**TRIBUNAL CALIFICADOR PARA LAS PRUEBAS SELECTIVAS CONVOCADAS POR
RESOLUCIÓN DE LA CONSEJERÍA DE ADMINISTRACIONES PÚBLICAS DE 30 DE
ABRIL DE 2007 (DOCM nº 97, DE 10 DE MAYO).**

CUERPO:	AUXILIAR
SISTEMA:	ACCESO LIBRE

**PLANTILLA CORRECTORA DEFINITIVA DEL SEGUNDO EJERCICIO
DE RESPUESTAS ALTERNATIVAS (CONOCIMIENTOS OFIMÁTICOS)**

Una vez estudiadas las reclamaciones y alegaciones realizadas al cuestionario de la prueba y a la plantilla provisional ya publicada por este Tribunal, por el presente escrito se hace pública la plantilla correctora definitiva aprobada por el Tribunal Calificador en sesión celebrada el día 27 de febrero de 2008 dando así respuestas a las mismas. Conforme a lo dispuesto en la base 6.4 de la convocatoria, mediante la presente plantilla se entienden resueltas todas las alegaciones presentadas sin que contra la misma quepa interponer recurso alguno de forma independiente, a salvo de los recursos que puedan interponer los interesados contra los actos definitivos y de trámite cualificado del proceso selectivo.

PLANTILLA CORRECTORA DEL CUESTIONARIO					
1- A	16- B	31- C	46- A	61-	76-
2- B	17- D	32- C	47- A	62-	77-
3- C	18- D	33- C	48- A	63-	78-
4- B	19- B	34- B	49- D	64-	79-
5- C	20- A	35- D	50- A	65-	80-
6- D	21- D	36- D	51-	66-	81-
7- A	22- A	37- C	52-	67-	82-
8- A	23- A	38- D	53-	68-	83-
9- A	24- A	39- C	54-	69-	84-
10- A	25- B	40- C	55-	70-	85-
11- A	26- A	41- C	56-	71-	
12- C	27- A	42- B	57-	72-	
13- C	28- A	43- C	58-	73-	
14- A	29- C	44- C	59-	74-	
15- C	30- B	45- B	60-	75-	

En Toledo, a 27 de febrero de 2008

LA PRESIDENTA DEL TRIBUNAL,



Lourdes Alonso Guervós.



Castilla-La Mancha